

3.39. 1 en omgivning av punkten $(1, \pi/3)$ kan

$$F(x, y) = 2 \cos(xy) - x = 0$$

skivas på formen $y=y(x)$.

a) Visa detta med hjälp av satsen om implicita funktioner samt ange formeln för y' .

b) Visa detta genom att bestämma $y(x)$.

Lösning: a) $F'_y = -2x \sin(xy)$

$$\Rightarrow F'_y(1, \pi/3) = -2 \cdot 1 \cdot \sin(1 \cdot \frac{\pi}{3}) = -2 \cdot \frac{\sqrt{3}}{2} = -\sqrt{3} \neq 0$$

Resultatet följer nu av implicita funktionsatsen.

Med $y=y(x)$ har vi

$$2 \cos(xy(x)) - x = 0$$

Derivera ledvis!

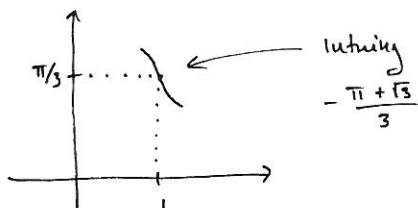
$$-2 \sin(xy(x)) (1 \cdot y(x) + x \cdot y'(x)) - 1 = 0$$

$$\text{alt. } -2 \sin(xy) (y + xy') - 1 = 0$$

$$\Leftrightarrow -2x \sin(xy) y' = 1 + 2y \sin(xy)$$

$$\Leftrightarrow \boxed{y' = -\frac{1 + 2y \sin(xy)}{2x \sin(xy)}}$$

e)



(3)

b) $2 \cos(xy) - x = 0 \Leftrightarrow \cos(xy) = \frac{x}{2}$ (2)

$$\Leftrightarrow xy = \arccos(\frac{x}{2}) \Leftrightarrow y = \frac{1}{x} \arccos(\frac{x}{2})$$

dä $0 \leq xy \leq \pi$ Svar: $y(x) = \frac{1}{x} \arccos(\frac{x}{2})$

OK, dånära $(1, \pi/3)$

c) Bestäm y' genom att derivera funktionen i b)

d) Kontrollera att derivatan i a) och c) ger samma värde på $y'(1)$.

e) Skissera kurvan alldeles i närheten av punkten $(1, \pi/3)$.

Lösning: c) $y'(x) = -\frac{1}{x^2} \arccos(\frac{x}{2}) + \frac{1}{x} \cdot \frac{-1}{\sqrt{1-\frac{x^2}{4}}} \cdot \frac{1}{2}$

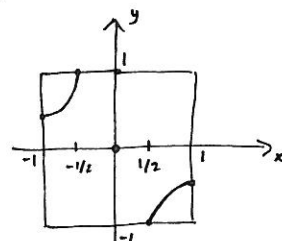
d) 1 a)-uppg: $y'(1) = -\frac{1 + 2y(1) \sin(1 \cdot y(1))}{2 \cdot 1 \cdot \sin(1 \cdot y(1))} = -\frac{1 + 2 \cdot \frac{\pi}{3} \sin \frac{\pi}{3}}{2 \sin \frac{\pi}{3}} = -\frac{1 + 2 \cdot \frac{\pi}{3} \cdot \frac{\sqrt{3}}{2}}{2 \cdot \frac{\sqrt{3}}{2}} = -\frac{1 + \frac{\pi \sqrt{3}}{3}}{\sqrt{3}} = -\frac{\pi + \sqrt{3}}{3}$

1 c)-uppg: $y'(1) = -\frac{1}{1^2} \arccos(\frac{1}{2}) + \frac{1}{1} \cdot \frac{-1}{\sqrt{1-\frac{1^2}{4}}} \cdot \frac{1}{2} = -\frac{\pi}{3} - \frac{1}{2 \sqrt{\frac{3}{4}}} = -\frac{\pi + \sqrt{3}}{3}$ OK!

$1 + 2xy = 0$ i ① ger att ③ alltid uppfyllt. (4)

$$1 + 2xy = 0 \stackrel{x \neq 0}{\Leftrightarrow} y = -\frac{1}{2x}$$

Stationära punkter $(0,0)$ och alla punkter (x,y) på kurvan $y = -\frac{1}{2x}$ ($-1 \leq x \leq -1/2, 1/2 \leq x \leq 1$)



Randen:

4 delar:

$y=1, -1 \leq x \leq 1:$

$$g_1(t) = f(t, 1) = t \cdot 1 + t^2 \cdot 1^2 = t^2 + t, -1 \leq t \leq 1$$

$$\Rightarrow g_1'(t) = 2t + 1 = 0 \Leftrightarrow t = -1/2$$

lutr. punkt $(-1/2, 1)$

$y=-1, -1 \leq x \leq 1:$

$$g_2(t) = f(t, -1) = -t + t^2, -1 \leq t \leq 1$$

$$\Rightarrow g_2'(t) = -1 + 2t \Leftrightarrow t = 1/2 \text{ lutr. pkt. } (1/2, -1)$$

$x=1, -1 \leq y \leq 1:$

$$g_3(t) = f(1, t) = t + t^2, -1 \leq t \leq 1 \dots$$

... lutr. pkt. $(1, -1/2)$

$x=-1, -1 \leq y \leq 1:$... lutr. pkt. $(-1, 1/2)$

4.3. Bestäm de största och minsta värdena för funktionen

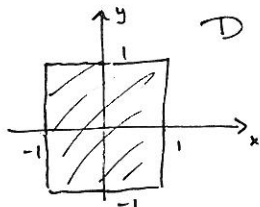
$$f(x, y) = xy + x^2 y^2$$

i området $|x| \leq 1, |y| \leq 1$.

Lösning: Rita området!

f kontinuerlig på kompakt område D

$\Rightarrow f_{\max} \text{ o } f_{\min}$ existerar!



Ta fram intressanta punkter:

Stationära punkter:

$$\begin{cases} f'_x = y + 2xy^2 = 0 \\ f'_y = x + 2x^2y = 0 \end{cases}$$

$$\Leftrightarrow \begin{cases} y(1 + 2xy) = 0 & \text{①} \\ x(1 + 2xy) = 0 & \text{②} \end{cases}$$

$y=0$ i ① ger $x(1 + 2x \cdot 0) = 0 \Leftrightarrow x=0$ i ②.

"Randen till randen", dvs. hörnan:

$$(1,1), (1,-1), (-1,1), (-1,-1)$$

Beräkna f i de intressanta punkterna:

$$f(0,0) = 0$$

$$f(x, -\frac{1}{2x}) = x \cdot (-\frac{1}{2x}) + x^2 \cdot (-\frac{1}{2x})^2 = -\frac{1}{2} + \frac{1}{4} = -\frac{1}{4}$$

$$f(-1/2, 1) = -\frac{1}{2} + (-\frac{1}{2})^2 = -\frac{1}{4} \text{ och p.s.s.}$$

$$f(1/2, -1) = f(1, -1/2) = f(-1, 1/2) = -\frac{1}{4}$$

$$f(1,1) = f(-1,-1) = 1 + 1 = 2$$

$$f(1,-1) = f(-1,1) = -1 + 1 = 0$$

Svar: $f_{\max} = 2, f_{\min} = -1/4$

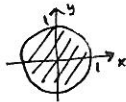
4.11. Beräkna största och minsta värde till

$$f(x,y) = x^2 + x(y^2 - 1)$$

i området $x^2 + y^2 \leq 1$.

Lösning: f kont. på kompakt mängd

(cirkelskiva) $\Rightarrow f_{\max}$ & f_{\min} existerar



Jämför intressanta punkter:

$$f(\frac{1}{2}, 0) = \frac{1}{4} - \frac{1}{2} = -\frac{1}{4}$$

$$f(1,0) = 1 - 1 = 0$$

$$f(-1,0) = 1 + 1 = 2$$

$$f(0, \pm 1) = 0$$

$$f(\frac{2}{3}, \pm \frac{\sqrt{5}}{3}) = \frac{4}{9} + \frac{2}{3} \left(\frac{5}{9} - 1 \right) = \frac{4}{27}$$

Svar: $f_{\max} = 2, f_{\min} = -1/4$.

5

Stat.punkt.

$$\begin{cases} f'_x = 2x + y^2 - 1 = 0 & \textcircled{1} \\ f'_y = 2xy = 0 & \textcircled{2} \end{cases}$$

6

$$\textcircled{2}: x=0 \text{ ger } y^2 - 1 \Leftrightarrow y = \pm 1 \text{ i } \textcircled{1}$$

$$y=0 \text{ ger } 2x - 1 \Leftrightarrow x = 1/2 \text{ i } \textcircled{1}$$

$$\text{stat. pkt. } (0, \pm 1), (1/2, 0)$$

Alla i området $(0, \pm 1)$ på randen

$$\begin{aligned} \text{Randen: } g(t) &= f(\cos t, \sin t) = \\ &= \cos^2 t + \cos t (\sin^2 t - 1) = \\ &= \cos^2 t - \cos^3 t, \quad 0 \leq t \leq 2\pi \end{aligned}$$

$$\begin{aligned} g'(t) &= 2\cos t(-\sin t) - 3\cos^2 t(-\sin t) = \\ &= \sin t \cos t (3\cos t - 2) = 0 \end{aligned}$$

$$\begin{aligned} (\Rightarrow) \begin{cases} \sin t = 0 & 0 \leq t \leq 2\pi \\ \text{eller } \cos t = 0 \\ \text{eller } \cos t = \frac{2}{3} \end{cases} & \Leftrightarrow \begin{cases} t = 0, \pi/2, \pi, 3\pi/2, 2\pi \\ \text{eller } t = \arccos \frac{2}{3} \\ \text{eller } t = 2\pi - \arccos \frac{2}{3} \end{cases} \end{aligned}$$

intr. punkter $(\pm 1, 0), (0, \pm 1)$ och

$$\left(\frac{2}{3}, \pm \frac{\sqrt{5}}{3} \right)$$

$$\leftarrow \pm \sqrt{1 - \left(\frac{2}{3}\right)^2}$$

"Rand till rand": $(1,0)$

7