

# Föreläsning 7

(1)

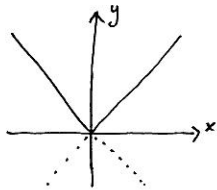
## Absolutbelopp (forts.):

Def (absolutbelopp):

$$|x| = \begin{cases} x & \text{om } x \geq 0 \\ -x & \text{om } x < 0 \end{cases}$$

Ex: Rita kurvan  $y = |x|$ !

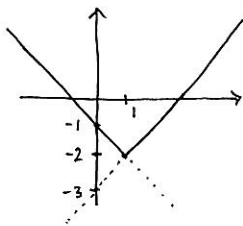
$$y = |x| \Leftrightarrow \begin{cases} y = x & \text{om } x \geq 0 \\ y = -x & \text{om } x < 0 \end{cases}$$



Ex: Rita kurvan  $y = |x-1| - 2$ !

$$y = |x-1| - 2 \Leftrightarrow \begin{cases} y = x-1-2 & \text{om } x-1 \geq 0 \\ y = -(x-1)-2 & \text{om } x-1 < 0 \end{cases}$$

$$\Leftrightarrow \begin{cases} y = x-3 & \text{om } x \geq 1 \\ y = -x-1 & \text{om } x < 1 \end{cases}$$



Anm: Vi kan också tänka oss kurvan  $y = |x|$  flyttad ett steg åt höger och två steg nedåt.

Ex: Lös ekvationen  $|x-2| = 3x+2$ !

(2)

$$|x-2| = \begin{cases} x-2 & \text{om } x \geq 2 \\ -(x-2) & \text{om } x < 2 \end{cases}$$

Dela upp i två fall:

$$x \geq 2: x-2 = 3x+2 \Leftrightarrow x = -2 \text{ duger ej!}$$

$$x < 2: -(x-2) = 3x+2 \Leftrightarrow x = 0 \text{ duger!}$$

Svar:  $x = 0$ .

Ex: Lös ekvationen  $|2x-1| + |x+1| = 2$ !

$$|2x-1| = \begin{cases} 2x-1 & \text{om } x \geq 1/2 \\ -(2x-1) & \text{om } x < 1/2 \end{cases}, |x+1| = \begin{cases} x+1 & \text{om } x \geq -1 \\ -(x+1) & \text{om } x < -1 \end{cases}$$

Uttrycken innanför absolutbeloppen byter tecken i  $1/2$  och  $-1$ . Dela upp i tre fall:

$$x \geq 1/2: (2x-1) + (x+1) = 2 \Leftrightarrow 3x = 2 \Leftrightarrow x = \frac{2}{3} \text{ duger!}$$

$$-1 \leq x < 1/2: -(2x-1) + (x+1) = 2 \Leftrightarrow x = 0 \text{ duger!}$$

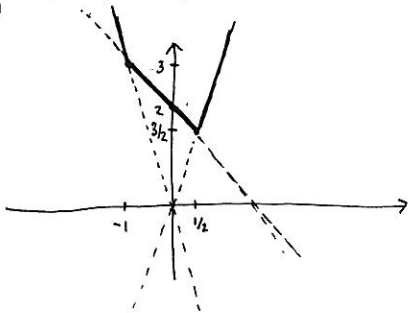
$$x < -1: -(2x-1) - (x+1) = 2 \Leftrightarrow -3x = 2 \Leftrightarrow x = -\frac{2}{3} \text{ duger ej!}$$

Svar:  $x = 2/3$  eller  $x = 0$ .

Ex: Rita kurvan  $y = |2x-1| + |x+1|$ !

(3)

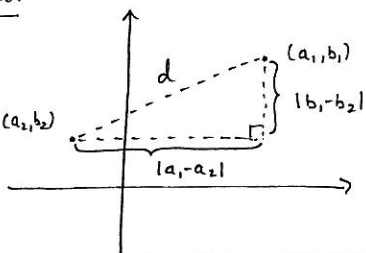
$$\begin{cases} y = (2x-1) + (x+1) = 3x & \text{om } x \geq 1/2 \\ y = -(2x-1) + (x+1) = -x+2 & \text{om } -1 \leq x < 1/2 \\ y = -(2x-1) - (x+1) = -3x & \text{om } x < -1 \end{cases}$$



## Avstånd i planet:

Bestäm avståndet mellan punkterna  $(a_1, b_1)$  och  $(a_2, b_2)$ !

Pythagoras sats:



$$d^2 = |a_1 - a_2|^2 + |b_1 - b_2|^2 \Leftrightarrow d = \sqrt{|a_1 - a_2|^2 + |b_1 - b_2|^2}$$

Anm:  $|a_1 - a_2|^2 = (a_1 - a_2)^2$ ,  $|b_1 - b_2|^2 = (b_1 - b_2)^2$

Ex: Bestäm avståndet mellan  $(-3, 4)$  och  $(-1, 1)$ !

(4)

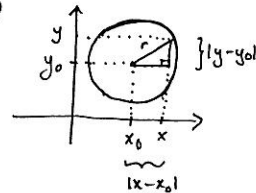
$$d = \sqrt{(-3 - (-1))^2 + (4 - 1)^2} = \sqrt{(-2)^2 + 3^2} = \sqrt{13}$$

## Cirkel, ellips och hyperbel:

En cirkel med medelpunkt  $(x_0, y_0)$  och radien  $r$  består av alla punkter  $(x, y)$  vars avstånd till  $(x_0, y_0)$  är  $r$ . Pythagoras sats ger (igen!)

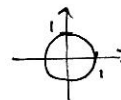
$$(x - x_0)^2 + (y - y_0)^2 = r^2$$

Kallas cirkelns ekvation.



Ex: Enhetscirkeln är cirkeln med radien 1 och medelpunkt origo (dvs.  $(0, 0)$ ). Ekvationen blir därför

$$x^2 + y^2 = 1$$



Ex: Skissera kurvan som ges av ekvationen

$$x^2 - 2x + y^2 + 4y - 4 = 0$$

Kvadrattkomplettera  $x$ :en och  $y$ :na var för sig:

$$(x-1)^2 - 1 + (y+2)^2 - 4 - 4 = 0 \Leftrightarrow$$

$$\Leftrightarrow (x-1)^2 + (y+z)^2 = 3^2 \quad (5)$$

$$\Leftrightarrow (x-1)^2 + (y-(-z))^2 = 3^2$$

En cirkel med medelpunkt  $(1, -2)$  och radi  $3$ .

Ex: Bestäm skärningen mellan linjen  $y = 2x + 1$  och cirkeln  $(x-1)^2 + (y+z)^2 = 3^2$ !

$$\text{Vi vill lösa } \begin{cases} y = 2x + 1 & (1) \\ (x-1)^2 + (y+z)^2 = 9 & (2) \end{cases}$$

Ersätt  $y$  med  $2x+1$  i elw. (2):

$$(x-1)^2 + ((2x+1)+z)^2 = 9$$

$$\Leftrightarrow x^2 - 2x + 1 + (2x+z)^2 = 9 \Leftrightarrow x^2 - 2x + 1 + 4x^2 + 4xz + z^2 = 9$$

$$\Leftrightarrow 5x^2 + 10x + 1 = 0 \Leftrightarrow x^2 + 2x + \frac{1}{5} = 0$$

$$\Leftrightarrow x = -1 \pm \sqrt{1^2 - \frac{1}{5}} = -1 \pm \sqrt{\frac{4}{5}} = -1 \pm \frac{2}{\sqrt{5}}$$

Sätt in dessa  $x$ -värden i elw. (1) (obs!)

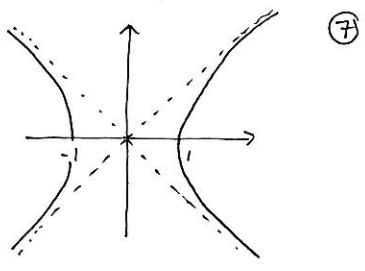
$$y = 2x + 1 = 2\left(-1 \pm \frac{2}{\sqrt{5}}\right) + 1 = -1 \pm \frac{4}{\sqrt{5}}$$

Svar: Två skärningspunkter, nämligen  $\left(-1 + \frac{2}{\sqrt{5}}, -1 + \frac{4}{\sqrt{5}}\right)$  och  $\left(-1 - \frac{2}{\sqrt{5}}, -1 - \frac{4}{\sqrt{5}}\right)$ .

□

Kallas hyperbel.

De har två "grenar".



Vad händer med kurvan då  $|x|$  är stort?

$$x^2 - y^2 = 1 \Leftrightarrow y^2 = x^2 - 1 \Leftrightarrow y = \pm \sqrt{x^2 - 1}$$

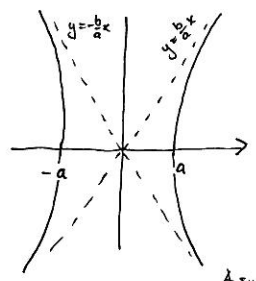
Då  $|x|$  är stort gäller  $y \approx \pm \sqrt{x^2} = \pm |x|$

Linjerna  $y = \pm x$  (se figur!) kallas asymptoter till kurvan.

$$\text{Hyperbel: } \left(\frac{x-x_0}{a}\right)^2 - \left(\frac{y-y_0}{b}\right)^2 = \pm 1$$

Ex: Hur ser hyperbeln  $\frac{x^2}{a^2} - \frac{y^2}{b^2} = 1$  ut?

Vilka blir asymptoterna?



Då  $|x|$  stort har vi kurvan

$$\frac{x^2}{a^2} - \frac{y^2}{b^2} \approx 0$$

som en god approximation.

$$\frac{x^2}{a^2} - \frac{y^2}{b^2} = 0 \Leftrightarrow \frac{y^2}{b^2} = \frac{x^2}{a^2}$$

$$\Leftrightarrow y^2 = \frac{b^2}{a^2} x^2 \Leftrightarrow y = \pm \frac{b}{a} |x|$$

Asymptoter:  $y = \pm \frac{b}{a} x$ .

Ex: Skissera kurvan som ges av ekvationen (6)

$$\frac{x^2}{4} - \frac{x}{2} + \frac{y^2}{9} - \frac{3}{4} = 0 \quad (6)$$

$$\frac{x^2}{4} - \frac{x}{2} + \frac{y^2}{9} - \frac{3}{4} = \frac{x^2 - 2x}{4} + \frac{y^2}{9} - \frac{3}{4} =$$

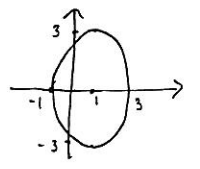
$$= \frac{(x-1)^2 - 1}{4} + \frac{y^2}{9} - \frac{3}{4} = \frac{(x-1)^2}{4} + \frac{y^2}{9} - 1$$

$$\text{Detta ger (6) } \Leftrightarrow \frac{(x-1)^2}{4} + \frac{y^2}{9} = 1$$

$$\Leftrightarrow \left(\frac{x-1}{2}\right)^2 + \left(\frac{y}{3}\right)^2 = 1^2$$

Detta motsvarar en cirkel med medelpunkt  $(1, 0)$  och radi  $1$ , men faktorena  $2$  och  $3$  innebär att cirkeln "töjs" med faktor  $2$  i  $x$ -led och faktor  $3$  i  $y$ -led.

En ellips! Talen  $2$  och  $3$  kallas ellipsens halvaxlar.



$$\text{Ellips: } \left(\frac{x-x_0}{a}\right)^2 + \left(\frac{y-y_0}{b}\right)^2 = 1$$

Hyperbel:

Ex: Betrakta kurvan  $x^2 - y^2 = 1$ !